
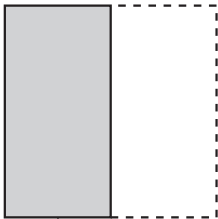


- ① おり紙を ^{がみ} まる ^{かず} 数を ^き ①, ②のように して 切りました。□に あては 書きましよう。 1つ10〔20点〕



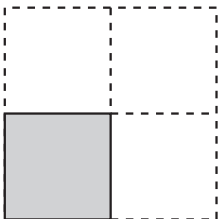
もとの 大きさ

① ^{はんぶん} 半分に して 切る。



もとの 大きさの □

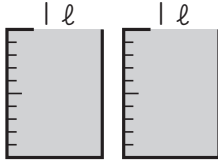
② 半分の 半分に して 切る。



もとの 大きさの □

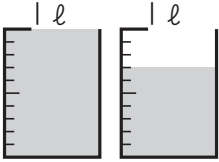
- ② つぎの 水の かさは どれだけですか。 1つ10〔20点〕

①



()

②



()


- ③ つぎの ^じ 時こくや ^{じかん} 時間を もとめましよう。 1つ10〔20点〕

- ① 午前 ^{ごぜん} 5時40分から ^{あと} 30分 後の 時こく

② 午後 ^{ごご} 6時50分から 午後 7時15分までの 時間



午前 □ 時 □ 分



□ 分(間)

- ④ □ に あてはまる 数を 書きましよう。 1つ10〔40点〕

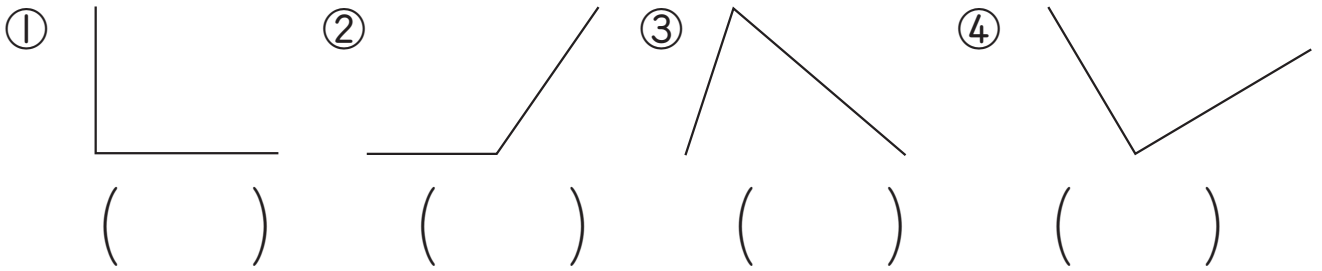
- ① 1 l = □ dl

② 1 l = □ ml

③ 1 時間 = □ 分

④ 1 日 = □ 時間

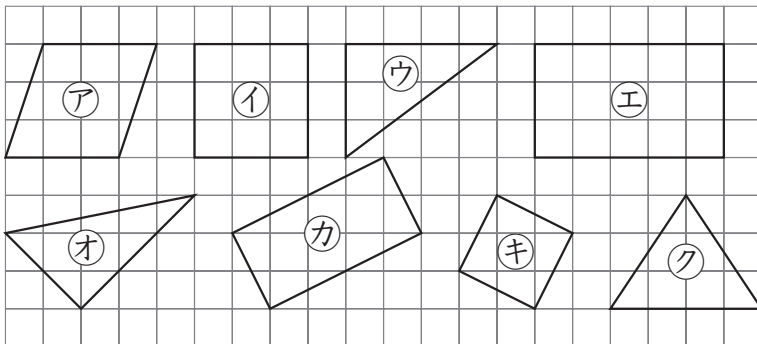
① かどの ^{かたち}形が ^{ちよっかく}直角に なって いる ものには ○を, 直角でないものには ×を かきましょう。 1つ8 [32点]



② ^{さんかくけい}三角形や ^{しかくけい}四角形で, ①, ②の ^{なん}ところを 何と いますか。 1つ9 [18点]



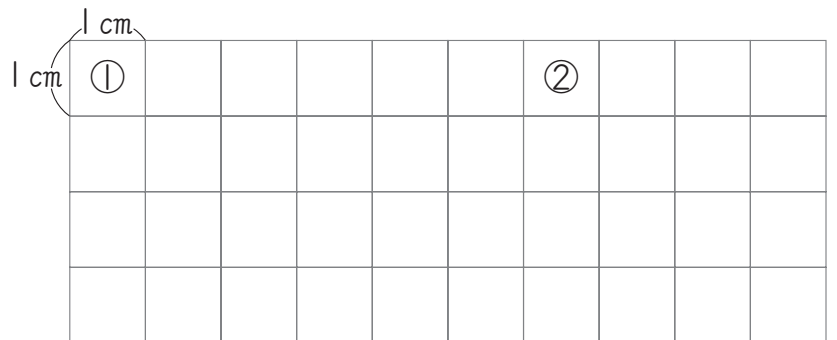
③ ^{ちやうほうけい}長方形, ^{せいほうけい}正方形, ^{ちよっかくさんかくけい}直角三角形を それぞれ 下から ^{こた}ぜんぶ えらんで, きごうで 答えましょう。 1つ10 [30点]



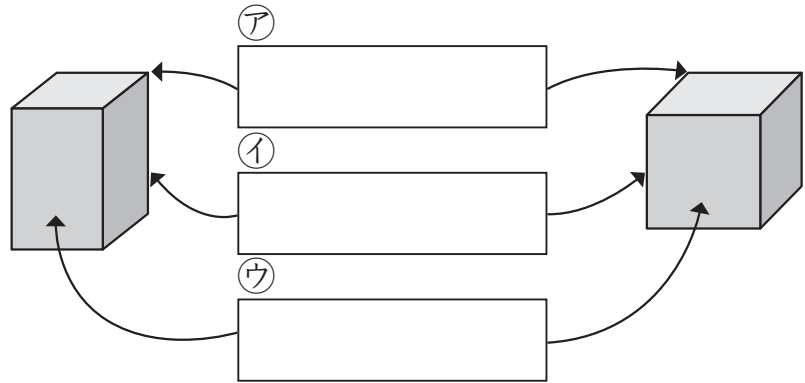
長方形 ()
正方形 ()
直角三角形 ()

④ 右の ^{ほう}方がんに, つぎの 四角形を かきましょう。 1つ10 [20点]

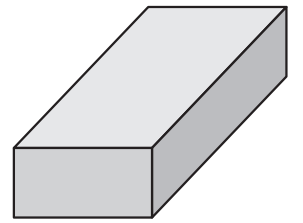
- ① たて 2cm, よこ 4cmの 長方形
- ② 1つの ^{なが}へんの 長さが 2cmの 正方形



- ① はこや ^{かたち}さいころの形で、^ア、^イ、^ウの ^{なん}ところを ^{なん}何と ^{なん}いいますか。 1つ8 [24点]



- ② 右の ^{かす}はこの形について、^か□にあてはまる ^か数や ^かことばを ^か書きましょう。 1つ8 [48点]



- ① ちょう^{てん}点は、□つあります。

- ② 同じ ^{おな}長さの ^{なが}へんが □つずつ □^{くみ}組あります。

- ③ めんは ^{しかくけい}どれも ^し四角形で、□の形です。そして、同じ形のめんが □つずつ □組あります。

- ③ ひごと ^{ねん}ねん土玉をつかって、右のような ^{かす}はこの形をつくりま

① 8, ② 1つ10 [28点]

- ① ^{ねん}ねん土玉は ^{いくつ}いくつ ^{いりますか}いりますか。
()

- ② 6cmと 18cmの ^{ひご}ひごは、それぞれ ^{何本}何本 ^{いりますか}いりますか。

6cmの ^{ひご}ひご () 18cmの ^{ひご}ひご ()

