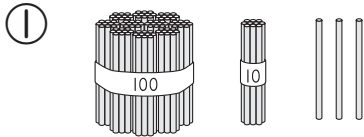


① ぼうは いくつ ありますか。□に かずを かきましょう。  
1つ8 [48てん]

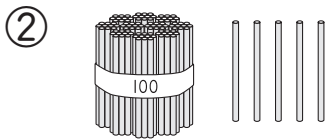


→ 100の たばが 1つで □,

10の たばが 1つで □,

ばらが □で, ぜんぶ あわせて,

□です。






→ □と 5で, □です。

② □に かずを かきましょう。  
1つ8 [16てん]

① 100が 1こと 10が 2こで □です。

② 100と 10と 8を あわせた かずは □です。

③ なんじなんぷんですか。  
1つ12 [36てん]



( ) ( ) ( )