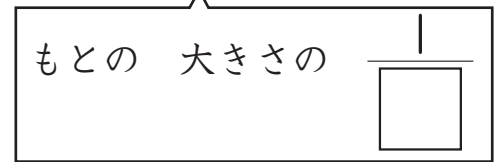
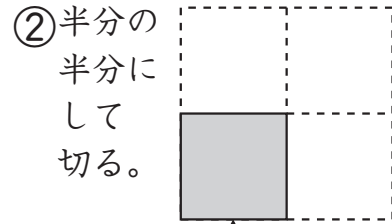

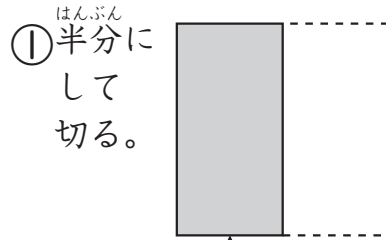
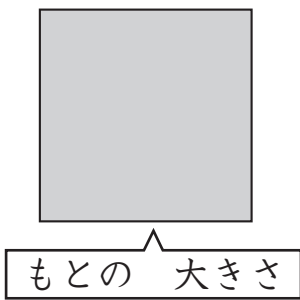
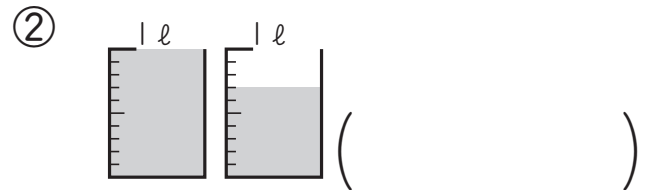
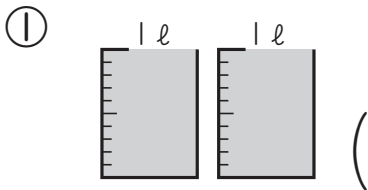


- ① おり紙を ^{がみ} まる ^{かず} 数を ^き ①, ②のように して 切りました。□に あては 書きましよう。 1つ10〔20点〕



- ② つぎの 水の かさは どれだけですか。 1つ10〔20点〕




- ③ つぎの ^じ 時こくや ^{じかん} 時間を もとめましよう。 1つ10〔20点〕

① 午前 ^{ごぜん} 5時40分から ^{あと} 30分 後の 時こく



午前 □ 時 □ 分

② 午後 ^{ごご} 6時50分から 午後 7時15分までの 時間



□ 分(間)

- ④ □ に あてはまる 数を 書きましよう。 1つ10〔40点〕

① 1 l = □ dl

② 1 l = □ ml

③ 1 時間 = □ 分

④ 1 日 = □ 時間