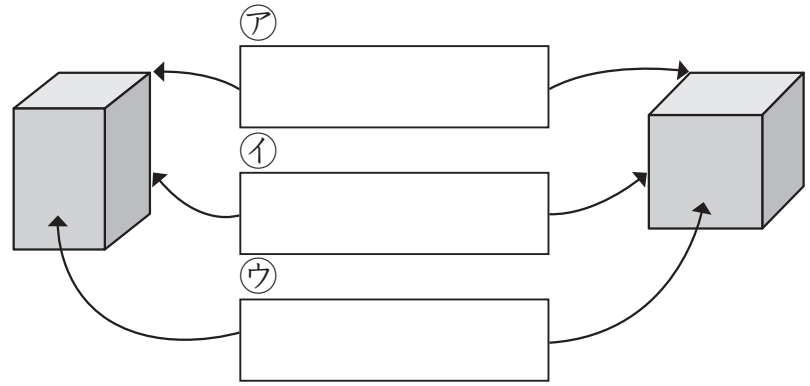
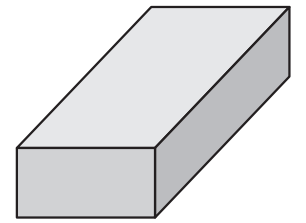


- ① はこや ^{かたち}さいころの形で、^ア、^イ、^ウの ^{なん}ところを ^{なん}何と ^{なん}いいますか。 1つ8 [24点]

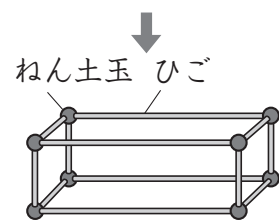
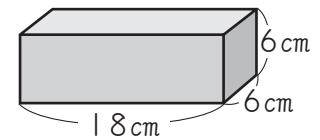


- ② 右のはこの形について、にあてはまる ^{かず}数や ^{ことば}ことばを ^か書きましょう。 1つ8 [48点]



- ① ちょう点^{てん}は、つ ^{なん}あります。
- ② 同じ ^{おな}長さの ^{なが}へんが つずつ 組^{くみ} ^{なん}あります。
- ③ めんは ^{しかくけい}どれも ^し四角形で、の形です。そして、同じ形のめんが つずつ 組 ^{なん}あります。

- ③ ひごと ^{ねん}ねん土玉をつかって、右のようなはこの形をつくります。 ①8, ②1つ10 [28点]



- ① ^{ねん}ねん土玉は ^{いくつ}いくつ ^{いりますか}いりますか。
()
- ② 6cmと 18cmの ^{ひご}ひごは、それぞれ ^{なん}何本 ^{いりますか}いりますか。
6cmの ^{ひご}ひご () 18cmの ^{ひご}ひご ()