

① ^{けいさん}計算を しましょう。

1つ5 [40点]

① $200 + 400$

② $700 + 300$

③ $600 + 900$

④ $800 + 800$

⑤ $300 - 100$

⑥ $500 - 300$

⑦ $700 - 400$

⑧ $900 - 500$

② 計算を しましょう。

1つ6 [12点]

①

	3	4	6
+			9

②

	8	7	5
-		2	7

③ 計算を しましょう。

1つ8 [48点]

①

$$\begin{array}{r} 584 \\ + \quad 6 \\ \hline \end{array}$$

②

$$\begin{array}{r} 628 \\ + \quad 55 \\ \hline \end{array}$$

③

$$\begin{array}{r} 932 \\ + \quad 49 \\ \hline \end{array}$$

④

$$\begin{array}{r} 453 \\ - \quad \quad 4 \\ \hline \end{array}$$

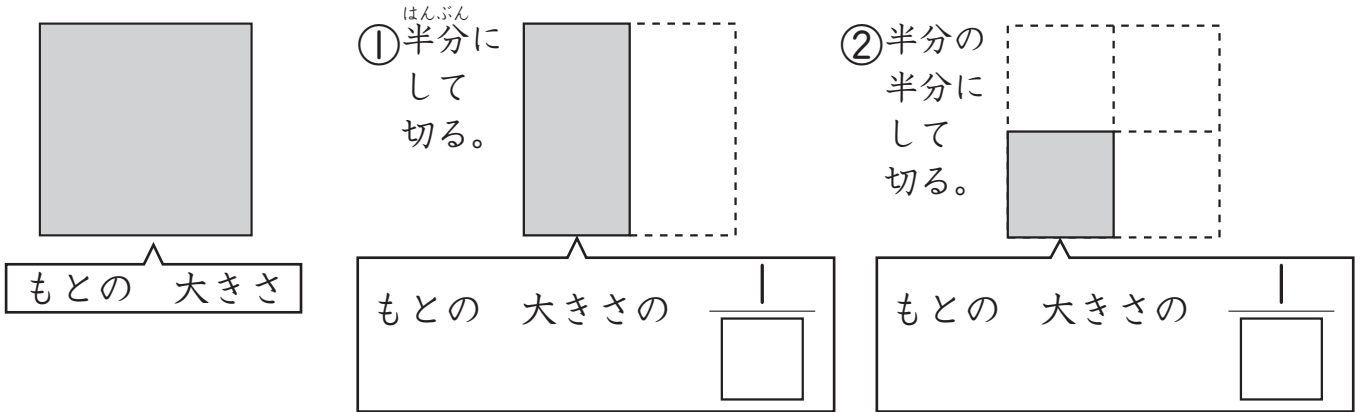
⑤

$$\begin{array}{r} 790 \\ - \quad \quad 8 \\ \hline \end{array}$$

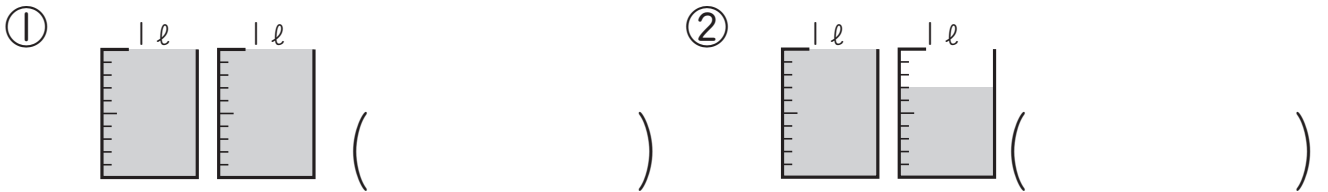
⑥

$$\begin{array}{r} 261 \\ - \quad 53 \\ \hline \end{array}$$

- ① おり紙を ^{がみ} まる ^{かず} 数を ^き ①, ②のように して 切りました。□に あては 書きましよう。 1つ10〔20点〕



- ② つぎの 水の かさは どれだけですか。 1つ10〔20点〕




- ③ つぎの ^じ 時こくや ^{じかん} 時間を もとめましよう。 1つ10〔20点〕

- ① 午前 ^{ごぜん} 5時40分から ^{あと} 30分 後の 時こく
② 午後 ^{ごご} 6時50分から 午後 7時15分までの 時間



午前 時 分

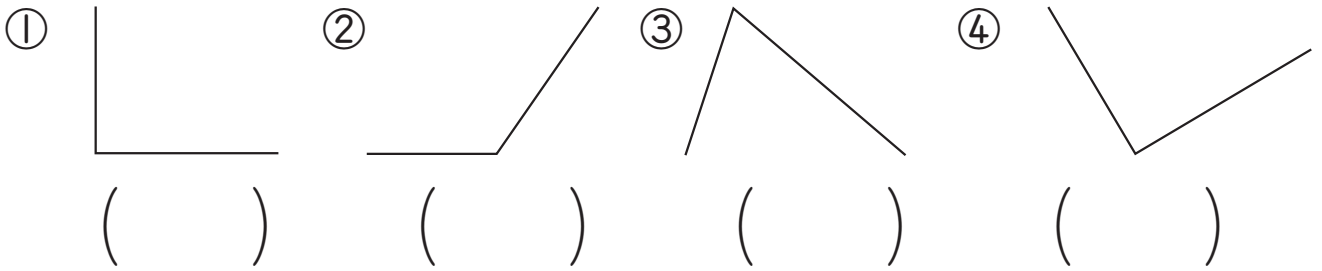


分(間)


- ④ に あてはまる 数を 書きましよう。 1つ10〔40点〕

- ① 1ℓ = dl ② 1ℓ = ml
③ 1時間 = 分 ④ 1日 = 時間

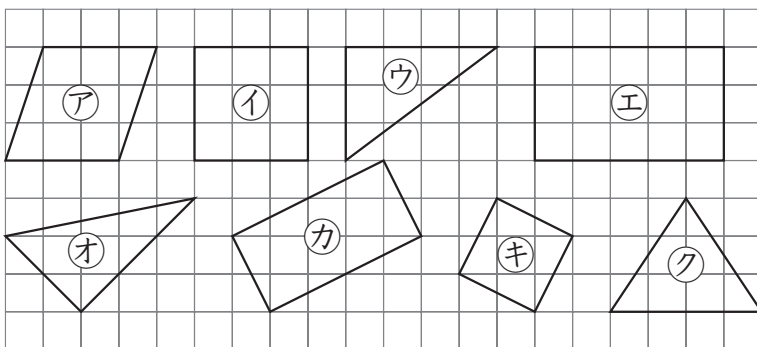
- ① かどの ^{かたち}形が ^{ちよっかく}直角に なって いる ものには ○を, 直角でないものには ×を かきましょう。 1つ8 [32点]



- ② ^{さんかくけい}三角形や ^{しかくけい}四角形で, ①, ②の ^{なん}ところを 何と いますか。 1つ9 [18点]




- ③ ^{ちやうほうけい}長方形, ^{せいほうけい}正方形, ^{ちよっかくさんかくけい}直角三角形を それぞれ 下から ^{こた}ぜんぶ えらんで, きごうで 答えましょう。 1つ10 [30点]



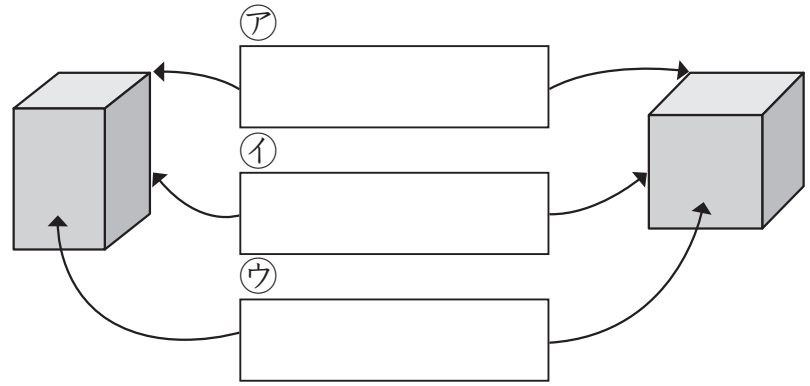
長方形 ()
正方形 ()
直角三角形 ()

- ④ 右の ^{ほう}方がんに, つぎの 四角形を かきましょう。 1つ10 [20点]

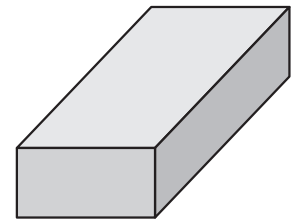
- ① たて 2cm, よこ 4cmの 長方形
② 1つの ^{なが}へんの 長さが 2cmの 正方形



- ① はこや ^{かたち}さいころの形で、^ア、^イ、^ウの ^{なん}ところを ^{なん}何と ^{なん}いいますか。 1つ8 [24点]



- ② 右の ^かはこの形について、^か□にあてはまる ^{かず}数や ^{ことば}ことばを ^か書きましょう。 1つ8 [48点]



- ① ^{てん}ちょう点は、□つ ^ああります。

- ② ^{おな}同じ ^{なが}長さの ^{へんが}へんが □つずつ □^{くみ}組 ^ああります。

- ③ ^しめんは ^どどれも ^{しかくけい}四角形で、□の形です。そして、同じ形の ^{めんが}めんが □つずつ □組 ^ああります。

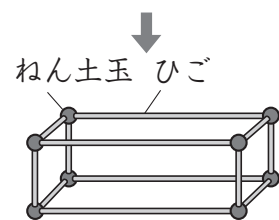
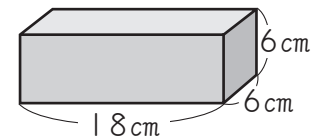
- ③ ひごと ^{ねん}ねん土玉を ^{つか}つかって、右のよ ^ううな ^かはこの形をつ ^{くり}くります。

① 8, ② 1つ10 [28点]

- ① ^{ねん}ねん土玉は ^{いく}いくつ ^いいりますか。
()

- ② 6cmと 18cmの ^{ひご}ひごは、それぞれ ^{なん}何本 ^いいりますか。

6cmの ^{ひご}ひご () 18cmの ^{ひご}ひご ()



- ① 700円のハンカチと 500円のくつ下を ^か買いました。
 だいは いくらですか。 しき12, 答え13[25点]
 (しき)

こた
答え

- ② きのう どうぶつえんに ^き来た人は 537人でした。きよ
 うは、きのうより 48人 ^{おお}多く 来ました。
 きょうは、何人 ^{なんにん} 来ましたか。 しき12, 答え13[25点]
 (しき)

答え

- ③ ^{がようし}画用紙が 600まい あります。200まい ^{つかうと}つかうと、のこ
 りは 何まいですか。 しき12, 答え13[25点]
 (しき)

答え

- ④ なわとびを して、りょうへいさんは 243回 ^{かい}とびました。
 さくらさんは、りょうへいさんより 7回 ^{すく}少なかったそうです。
 さくらさんは 何回 とびましたか。 しき12, 答え13[25点]
 (しき)

答え
