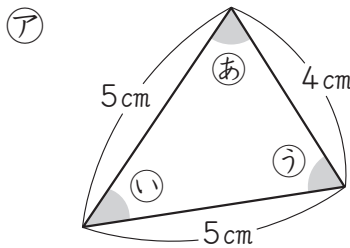


① 次のあ、い、うの角を、大きいじゅんに記号で答えましょう。 [10点]



② 次のア、イの三角形について、問題に答えましょう。 1つ10[30点]

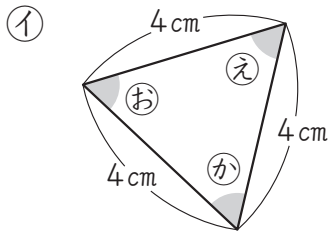


① 二等辺三角形は、ア、イのどちらですか。

()

② アの三角形で、あひとの角と大きさが等しい角はどれですか。

()



③ イの三角形で、えぜんぶの角と大きさが等しい角はどれですか。全部答えましょう。

()

③ コンパスを使って、円をかきます。 1つ15[30点]

① 右の□の中に、半径2cmの円をかきましょう。

② ①の円の直径は、何cmですか。

()



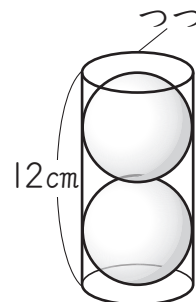
④ □にあてはまる数やことばを書きましょう。

1つ10[30点]

① 球を切った切り口の形は、□です。

② 直径が8cmの球の半径は、□cmです。

③ 右のボールの直径は、□cmです。



同じ大きさのボールが2こ、つつの中にきちんと入っている。