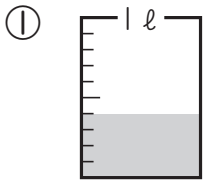
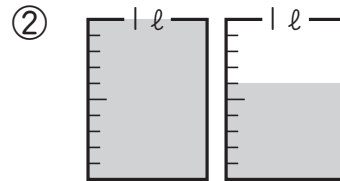


① 次の水のかさは何ℓですか。①, ②は小数で, ③, ④は分数で答えましょう。

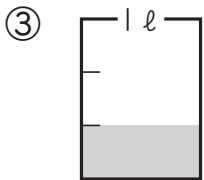
1つ8 [32点]



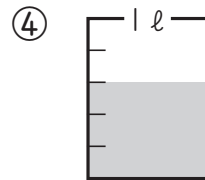
()



()



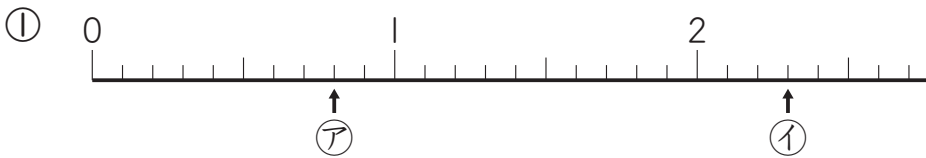
()



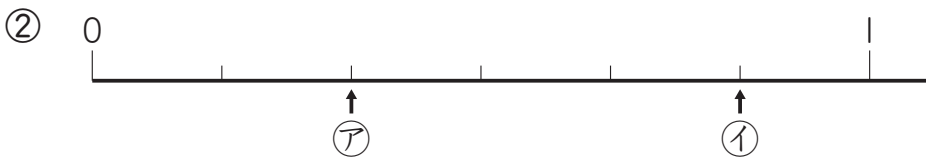
()

② 次の数直線で, ア, イのめもりが表す数を, ①は小数で, ②は分数で答えましょう。

1つ8 [32点]



ア ()
イ ()



ア ()
イ ()

③ □にあてはまる数を書きましょう。

1つ9 [36点]

① 5.2の $\frac{1}{10}$ の位の数字は, □です。

② 0.1を37こ集めた数は, □です。

③ $\frac{1}{7}$ を4こ集めた数は, □です。

④ $\frac{9}{10}$ を小数で表すと, □です。

