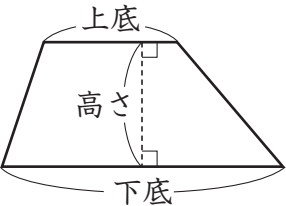
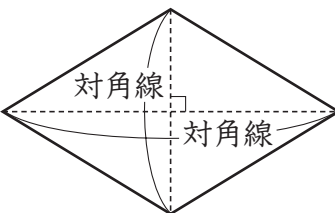


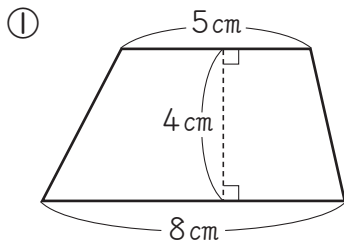
- ① 台形やひし形の面積の公式について考えます。□に＋，－，×，÷のどれかの記号を書き入れて，公式を完成させましょう。 1つ4 [20点]

①  ⇒ 台形の面積 = (上底 □ 下底) □ 高さ □ 2

②  ⇒ ひし形の面積 = 対角線 □ 対角線 □ 2

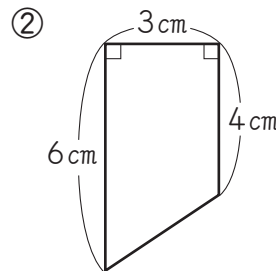
- ② 次の台形やひし形の面積を求めましょう。

式10, 答え10 [80点]



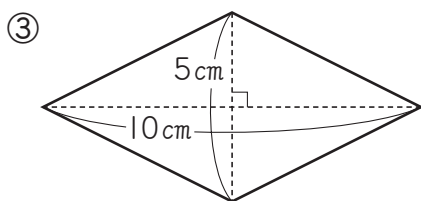
(式)

答え \_\_\_\_\_



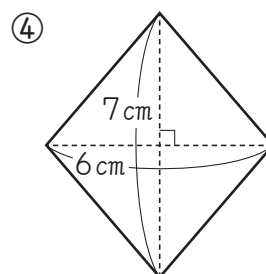
(式)

答え \_\_\_\_\_



(式)

答え \_\_\_\_\_



(式)

答え \_\_\_\_\_