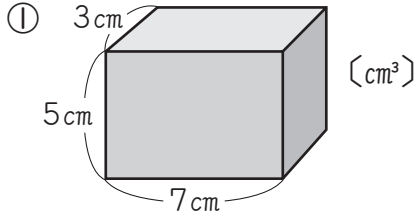


|  |   |  |   |
|--|---|--|---|
|  | 月 |  | 日 |
|--|---|--|---|

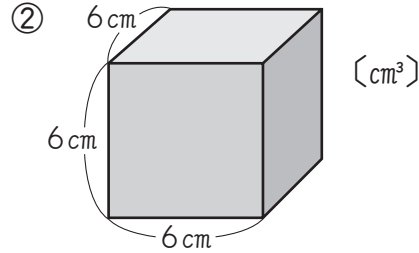
名前

○ 点

**①** 次の直方体や立方体の体積を、〔 〕の中の単位で求めましょう。 式8，答え8〔64点〕



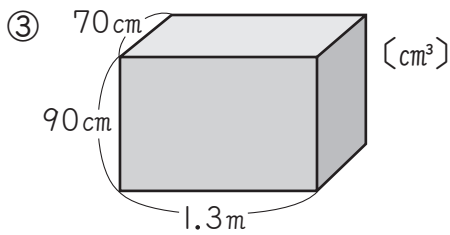
(式)



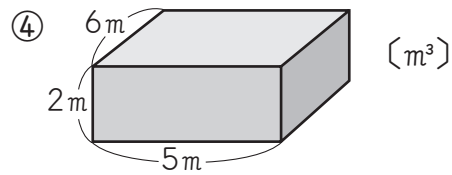
(式)

答え \_\_\_\_\_

答え \_\_\_\_\_



(式)



(式)

答え \_\_\_\_\_

答え \_\_\_\_\_

**②** □にあてはまる数を書きましょう。

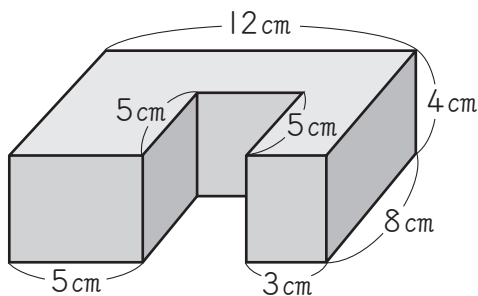
1つ9〔18点〕

①  $5\text{ m}^3 = \square \text{ cm}^3$

②  $8\text{ l} = \square \text{ cm}^3$

**③** 次のような形の体積を求めましょう。

式9，答え9〔18点〕



(式)

答え \_\_\_\_\_