

① 計算をしましょう。

1つ5 [30点]

①

	3	4	2	6
+	2	8	4	3

②

	3	2	6	8
+	3	3	4	5

③

	7	0	5	3
+	1	9	8	9

④

	8	5	9	7
-	1	6	2	7

⑤

	6	8	5	1
-	4	2	7	8

⑥

	5	2	4	0
-	3	5	4	6

② 計算をしましょう。

1つ5 [30点]

①

$$\begin{array}{r} 2374 \\ + 5165 \\ \hline \end{array}$$

②

$$\begin{array}{r} 5829 \\ + 2781 \\ \hline \end{array}$$

③

$$\begin{array}{r} 604 \\ + 7396 \\ \hline \end{array}$$

④

$$\begin{array}{r} 4955 \\ - 1284 \\ \hline \end{array}$$

⑤

$$\begin{array}{r} 3052 \\ - 1566 \\ \hline \end{array}$$

⑥

$$\begin{array}{r} 6000 \\ - 731 \\ \hline \end{array}$$

③ 5695円のズボンと3745円のシャツを買いました。代金はいくらですか。

だいきん

式10, 答え10 [20点]

しき  
(式)

答え

---

④ ある動物園の土曜日の入場者数は2786人で、日曜日の入場者数は4453人でした。日曜日は土曜日より、何人多く入場しましたか。

どうぶつえん

にゅうじょうしゃすう

式10, 答え10 [20点]

(式)

答え

---

月日

名前

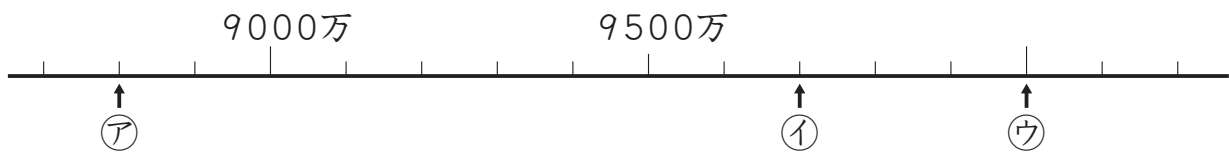
点

① にあてはまる数やことばを書きましょう。 1つ5 [15点]

① 百万を10こ集めた数を千万といい、数字で  と書きます。

② 千万を10こ集めた数を一  といい、数字で  と書きます。

② 次の数直線で、ア、イ、ウのめもりが表す数を書きましょう。 1つ7 [21点]




ア (                      )      イ (                      )      ウ (                      )

③ コンパスを使って、円をかきます。1つ20 [40点]

① 右の  の中に、半径2cmの円をかきましょう。

② ①の円の直径は、何cmですか。

(                      )

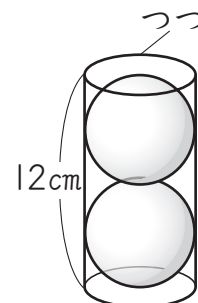


④ にあてはまる数やことばを書きましょう。 1つ8 [24点]

① 球を切った切り口の形は、  です。

② 直径が8cmの球の半径は、  cmです。

③ 右のボールの直径は、  cmです。



同じ大きさのボールが2こ、つつの中にきちんと入っている。